

◆それぞれの問題について、マークに○をつけましょう。

😊自信あり 😊まあまあ自信あり 😞少し自信なし 😞自信なし

**3年**

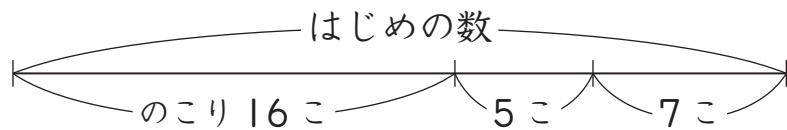
# ＊かくれた数はいくつ(1)

クラス	名
	組前

① あめを買いました。弟に7こ、妹に5こあげたら、のこりは16こになりました。はじめ、あめは何こありましたか。



※ 下の図を見て考えましょう。



(式)

答え  こ

😊 😊 😞 😞

② 色紙が何まいかありました。5まいずつ2人の子どもにくばったら、のこりは25まいになりました。はじめ、色紙は何まいありましたか。

※ 図をかいて考えましょう。




(式)

答え  まい

😊 😊 😞 😞

③ 140円のノートと80円のものを買いました。そのあとでえん筆も買ったらず、全部で280円になりました。えん筆は何円でしたか。



※ 図をかいて考えましょう。




(式)

答え  円

😊 😊 😞 😞

④ 花だんに、赤いチューリップが15本、黄色いチューリップが7本さいていました。今日、また何本かさいたので、チューリップは全部で27本さいています。今日、何本さきましたか。

※ 図をかいて考えましょう。



(式)

答え  本

😊 😊 😞 😞

## (かくれた数はいくつ(1))の学習をふりかえって

★ この学習は楽しかったですか。

( はい まあまあ 少し いいえ )

● じゆぎょうの中で、おもしろかったことやわかったことなどのかんそうをかきましょう。

◆ この学習はよくわかりましたか。

( はい まあまあ 少し いいえ )