

◆各問題について、自分で自信があるかないか、マークに○をつけましょう。

😊 自信あり 😊 まあまあ自信あり 😞 少し自信なし 😞 自信なし

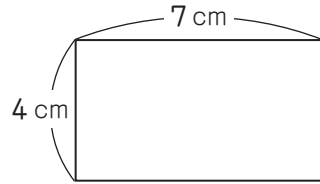
6年

6. 比とその利用

クラス	名
	組前


① 図を見て、それぞれの比をかきましょう。

① 長方形の紙の縦と横の長さの比



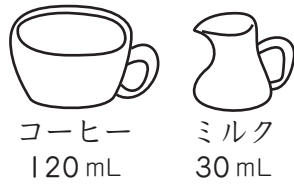
()

② 男子と女子の人数の比



()

③ コーヒーとミルクの量の比



()

😊 😊 😞 😞

② 次の比の値を求めましょう。

① $5:9$ () ② $12:8$ ()

③ $0.4:2$ () ④ $\frac{3}{4}:\frac{5}{6}$ ()

😊 😊 😞 😞

③ 次の2つの比が等しいときは○、そうでないときは×を()にかきましょう。

① $4:2$ と $8:4$ ()

② $7:3$ と $14:7$ ()

③ $18:30$ と $3:5$ ()

④ $9:12$ と $4:6$ ()

😊 😊 😞 😞

④ □にあてはまる数をかきましょう。

① $10:3 = 40:$ □

② $16:24 =$ □ $:3$

😊 😊 😞 😞

⑤ 次の比を簡単にしましょう。

① $16:48$ () ② $480:600$ ()

③ $2:0.5$ () ④ $1.5:1.05$ ()

⑤ $\frac{4}{15}:\frac{2}{3}$ () ⑥ $\frac{2}{5}:6$ ()

😊 😊 😞 😞

⑥ 赤色と黄色のテープの長さの比は $8:3$ で、赤色のテープの長さは 56cm だそうです。黄色のテープの長さは何 cm ですか。

(式)

答え ()

😊 😊 😞 😞

⑦ 色紙が 48 枚あります。この色紙を、さおりさんと妹の2人で分けます。

さおりさんと妹の枚数の比が $3:1$ になるように分けると、さおりさんは何枚になりますか。

(式)

答え ()

😊 😊 😞 😞

(比とその利用) の学習をふりかえって

★ この学習は楽しかったですか。

(はい まあまあ 少し いいえ)

● 感想を自由にかきましょう。(授業の中で、おもしろかったことや気づいたことなど)

◆ この学習はよくわかりましたか。

(はい まあまあ 少し いいえ)