

◆各問題について、自分で自信があるかないか、マークに○をつけましょう。

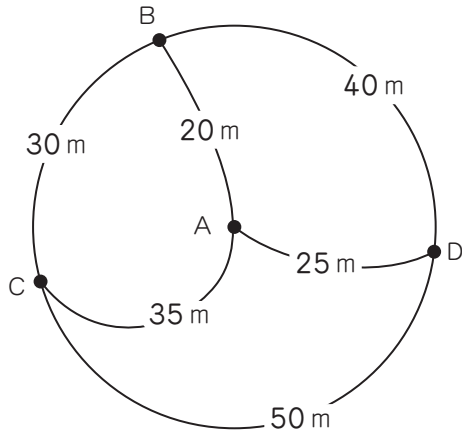
😊 自信あり 😊 まあまあ自信あり 😞 少し自信なし 😞 自信なし

**6年**

**13-2. 場合を順序よく整理して②**

クラス	名
	組前

① A, B, C, D の4つの地点が、下の図のような位置にあります。点Aを出発して、点B, C, Dをみんなまわって点Aに帰ってくるようにします。(ただし、途中で点Aは通らないものとします。)



① まわり方は、全部で何とおりありますか。

( )

② どんな順にまわると、道のりがいちばん短くなりますか。また、そのときの道のりは何mですか。

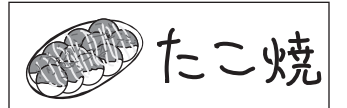
まわり方 ( )

道のり ( )

😊 😊 😞 😞

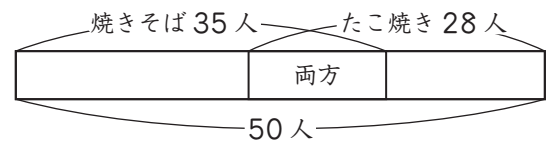
② 子ども会で、焼きそばとたこ焼きの引きかえ券を50人にくばりました。そのうち、焼きそばは35人、たこ焼きは28人でした。

① 引きかえ券は、何枚いっただしょう。



( )

② 下の図を見て、両方食べる人は何人になるか考えましょう。



( )

③ 子ども会が出すお金は、全部で何円になりますか。

( )

😊 😊 😞 😞

**( 場合を順序よく整理して② ) の学習をふりかえって**

★ この学習は楽しかったですか。

( はい まあまあ 少し いいえ )

● 感想を自由にかきましょう。(授業の中で、おもしろかったことや気づいたことなど)

◆ この学習はよくわかりましたか。

( はい まあまあ 少し いいえ )